

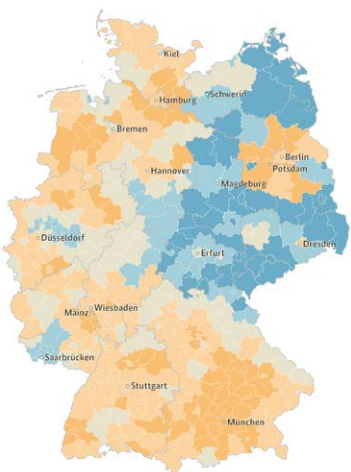
Vorname: _____

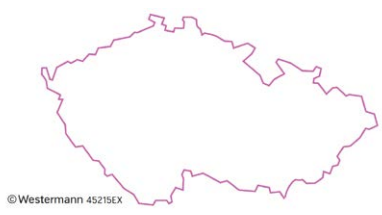
Name: _____

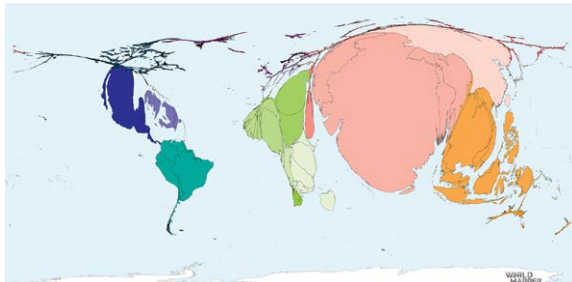
Klasse: _____

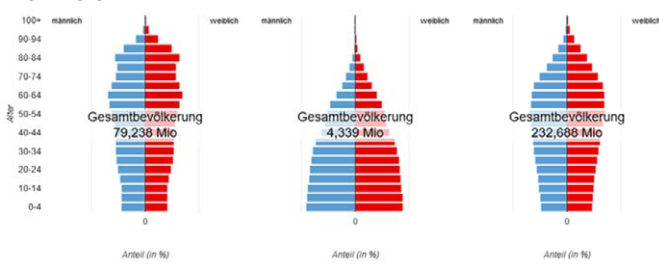
Diercke WISSEN 2023

Schulebene (Kl. 7–10)

Nr.	Aufgaben Deutschland	Antworten	Punkte
1	Die Landeshauptstädte von Hessen und Rheinland-Pfalz liegen an einem großen Fluss einander gegenüber. Benenne a) den Fluss b) die beiden Landeshauptstädte	a) _____ b) _____	
2	Benenne einen der drei wichtigsten Handelspartner bezogen auf den Exportwert für Deutschland (Stand 2021).	_____	
3	Kreuze an, welche Aussagen <u>falsch</u> sind: A Das Grundwasser in Deutschland ist teilweise stark mit Nitrat belastet. B In Deutschland gibt es mehrere Endlager für Atommüll. C Die privaten Haushalte sind die größten Verursacher von Treibhausgasen in Deutschland. D Restmüll wird in Deutschland fast immer verbrannt.	<input type="checkbox"/> A <input type="checkbox"/> B <input type="checkbox"/> C <input type="checkbox"/> D	
4	Auf einer Deutschlandkarte mit dem Maßstab 1:1.500.000 liegen die Orte Osnabrück und Bielefeld drei Zentimeter voneinander entfernt. Berechne deren wirkliche Entfernung in Kilometern.	_____	
5	Die Karte zeigt die Veränderung ... im Zeitraum von 1990 bis 2020. 1990–2020  <p>Veränderung in Prozent</p> <ul style="list-style-type: none">+18 bis +47+6 bis +18-6 bis +6-18 bis -6-37 bis -18 <p>Datenquelle: Statistisches Bundesamt Geometrische Grundlage: © GeoBasis-DE / BKG (2021) Bildlizenz: CC BY-ND 4.0</p>	<input type="checkbox"/> A ... der Arbeitslosigkeit <input type="checkbox"/> B ... der Lebenserwartung <input type="checkbox"/> C ... der Bevölkerungszahl <input type="checkbox"/> D ... vom Durchschnittseinkommen	

Nr.	Aufgaben Europa	Antworten	Punkte
6	Benenne das abgebildete Land.  <small>©Westermann 45215EX</small>	_____	
7	Benenne, in welchem Staat sich der schiefe Turm von Pisa befindet.	_____	
8	In den Alpen entsteht der sogenannte Alpenföhn. Erkläre, was der Föhn ist und wie er entsteht.	_____ _____ _____	
9	Ordne die Städte nach ihrer Breitenlage. Beginne mit der an nördlichsten gelegenen Stadt: A Berlin B London C Rom D Stockholm	<input type="checkbox"/> <input type="checkbox"/> <input type="checkbox"/> <input type="checkbox"/>	

Nr.	Aufgaben Welt	Antworten	Punkte
10	Nenne je einen Vor- und Nachteil des Monsuns für Indien.	Vorteil: _____ Nachteil: _____	
11	Ergänze den richtigen Begriff:	Der kleinste Ozean ist _____ (größer/kleiner) als der größte Kontinent.	
12	2020 haben die meisten Länder weniger CO ₂ ausgestoßen als 2019. Kreuze an, welche beiden Länder mehr CO ₂ ausgestoßen haben.	<input type="checkbox"/> A China <input type="checkbox"/> B Frankreich <input type="checkbox"/> C Katar <input type="checkbox"/> A USA	
13	In dieser anamorphen Karte wird der Anbau einer bestimmten Frucht dargestellt. Kreuze an, um welche es sich handelt.  <small>WORLD MAPPER</small>	<input type="checkbox"/> A Ananas <input type="checkbox"/> B Banane <input type="checkbox"/> C Erdbeere <input type="checkbox"/> A Mango	

Nr.	Aufgaben Allgemeine Geographie	Antworten	Punkte
14	Erkläre, was ein Zehrgebiet ist.	_____	
15	Gib den Fachbegriff für den Vorgang an, bei dem in der Natur festes Gestein durch die Tätigkeit des fließenden Wassers und des Windes abgetragen wird.	_____	
16	a) Ergänze den Fachbegriff: Die Wiederverwendung gebrauchter Rohstoffe wird ... genannt. b) Beschreibe ein Beispiel für diese Wiederverwendung.	a) _____ b) _____	
17	Ordne den drei Ländern die Bevölkerungsdiagramme im Jahr 2050 (Prognose) zu: Brasilien, Deutschland, Namibia 	a) _____ b) _____ c) _____	
18	Benenne die Sphäre, in der sich das Wetter abspielt.	_____	

Nr.	Kartenaufgabe (mit Kartenvorlage Europa)	Punkte
19	Kennzeichne bei den folgenden Aufgaben das Gesuchte (A–E) in der Karte als Umriss/Kreis und trage den dazugehörigen Buchstaben ein.	
	1. Der Ärmelkanaltunnel verbindet die beiden Länder Frankreich (A) und Großbritannien (B) .	
	2. Die mit 17,2 Kilometern längste Brücke Europas, die „Ponte Vasco da Gama“, überspannt den Fluss Tejo in der Nähe Lissabons (C) und stellt die schnellste Verbindung nach Madrid (D) dar.	
	3. Für einen beschleunigten Transit durch die Alpen (E) wird derzeit in Österreich und Italien am Brennerbasistunnel gearbeitet.	

Gesamtpunktzahl	
------------------------	--



Nr.	Stichfragen*	Antworten
1	Die Ever Alot ist das größte Containerschiff der Welt (Stand Juni 2022). Wie viele Zwanzig-Fuß-Container (TEU) können mit dem Schiff transportiert werden?	<hr/>
2	Wie weit ist Berlin von New York entfernt (Luftlinie)?	<hr/>
3	Auf der Halbinsel Kola befindet sich die tiefste Bohrung der Erde. Schätze deren Tiefe (in Metern).	<hr/>

*Bei Punktegleichstand nach 3 Stichfragen kann der/die Lehrer*in eigenständig weitere Stichfragen stellen, bis der/die Klassen-/ Gruppensieger*in ermittelt ist.