

Vorname, Name: _____

Klasse: _____ Schule: _____

Betreuende Lehrkraft: _____

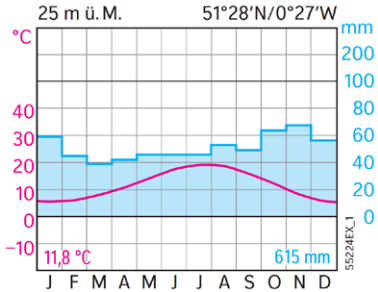
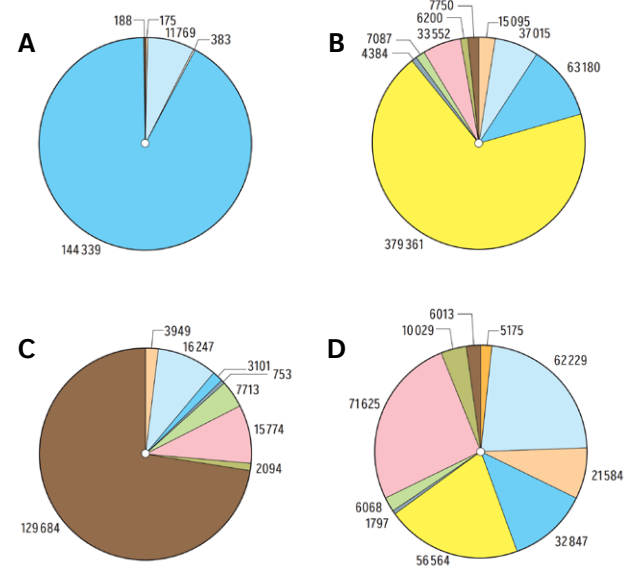
Schuladresse: _____

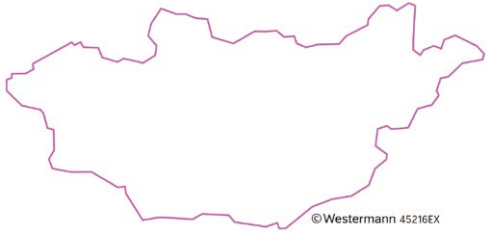
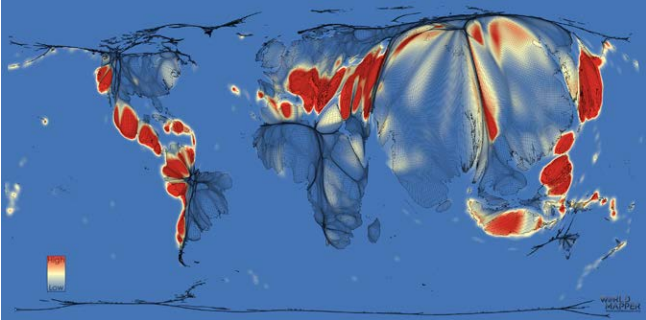





Diercke WISSEN 2023

Landesebene (Kl. 7–10)

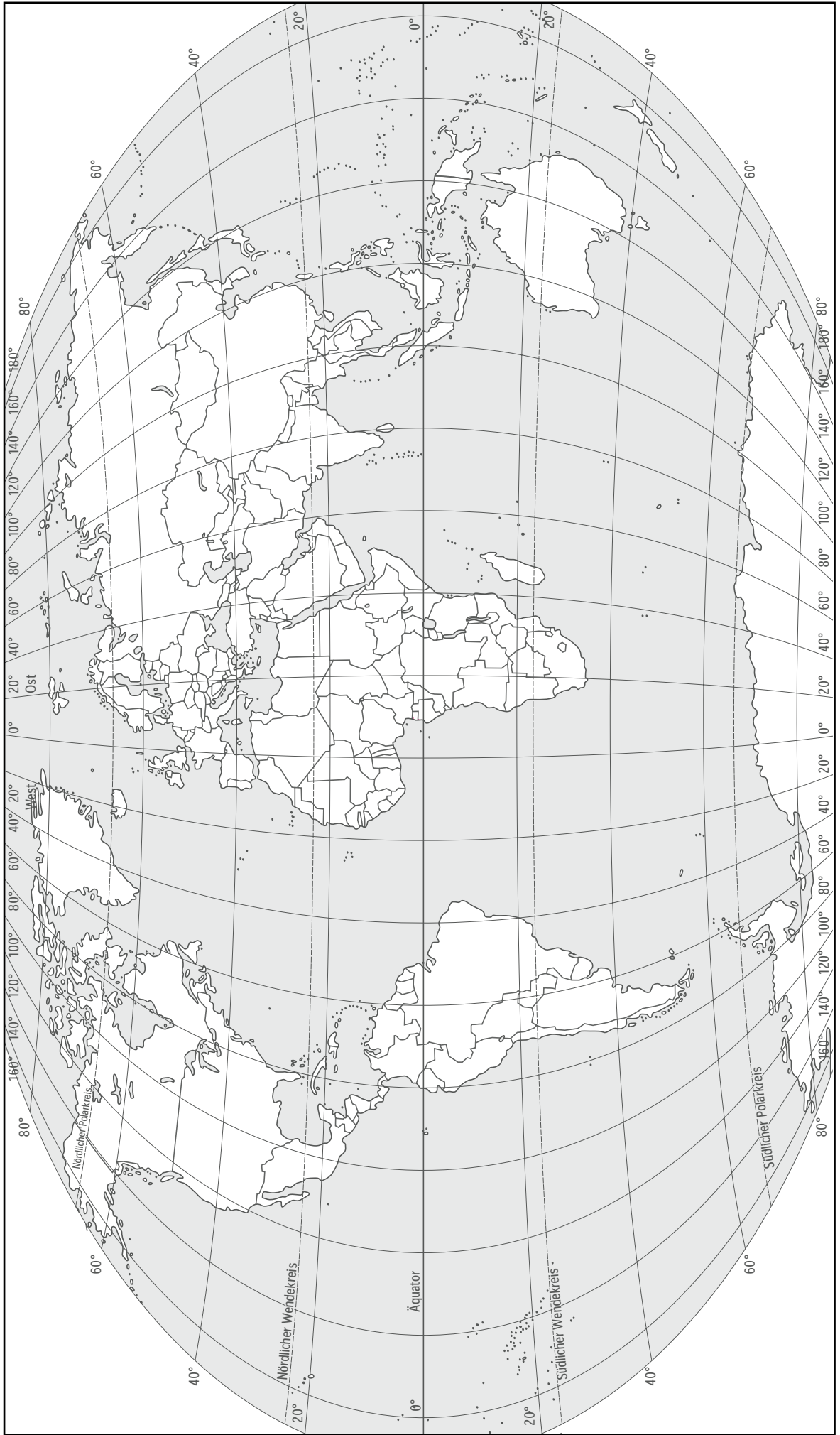
Nr.	Aufgaben Deutschland	Antworten	Punkte
1	<p>Die Karte zeigt den Anteil der ... im Jahr 2020. Kreuze die korrekte Antwort an.</p> <p>A Landwirtschaftsfläche B Siedlungs- und Verkehrsfläche C Sport-, Freizeit und Erholungsfläche D Waldfläche</p> <p style="font-size: small;">STATISTISCHE ÄMTER DES BUNDES UND DER LÄNDER</p> <p style="font-size: x-small;">Fachdaten: Statistische Ämter des Bundes u. der Länder Hintergrund: GeoBasis-DE/380 und EuroGeographics Link: https://regionalatlas.statistikportal.de/</p> <p style="font-size: x-small;">Mabstabs: 1:4 822 324 © Statistische Ämter des Bundes und der Länder</p>	<div style="display: flex; justify-content: space-around; align-items: center;"> <div style="border: 1px solid black; padding: 5px; margin: 5px;">A</div> <div style="border: 1px solid black; padding: 5px; margin: 5px;">B</div> <div style="border: 1px solid black; padding: 5px; margin: 5px;">C</div> <div style="border: 1px solid black; padding: 5px; margin: 5px;">D</div> </div>	
2	<p>Die östlichste deutsche Ostseeinsel liegt in der Pommerschen Bucht. Benenne sie.</p>	_____	
3	<p>Der Einsatz der gesuchten Fördertechnik in Deutschland wird in der aktuellen Energiekrise wieder vermehrt diskutiert. Nenne den Fachbegriff für diese Fördertechnik, mit welcher hauptsächlich Erdgas gewonnen wird.</p>	_____	
4	<p>Ordne die Gebirge in der richtigen Reihenfolge von Westen nach Osten:</p> <p>A Bayerischer Wald, B Odenwald, C Pfälzer Wald, D Thüringer Wald.</p>	<p>West Ost</p> <div style="display: flex; justify-content: space-around; align-items: center;"> <div style="border: 1px solid black; width: 40px; height: 40px; margin: 5px;"></div> <div style="border: 1px solid black; width: 40px; height: 40px; margin: 5px;"></div> <div style="border: 1px solid black; width: 40px; height: 40px; margin: 5px;"></div> <div style="border: 1px solid black; width: 40px; height: 40px; margin: 5px;"></div> </div>	

Nr.	Aufgaben Europa	Antworten	Punkte
5	Benenne eine europäische Insel, die sich zwei Staaten teilen.	_____	
6	<p>a) Ordne das Klimadiagramm einer der folgenden Städte zu:</p> <p>A London B Berlin C Warschau</p>  <p>b) Begründe deine Auswahl.</p>	<p>a) <input type="checkbox"/> A <input type="checkbox"/> B <input type="checkbox"/> C</p> <p>b) _____</p> <p>_____</p> <p>_____</p> <p>_____</p>	
7	<p>Die Kreisdiagramme zeigen Energieträger für die Bereitstellung von Elektrizität in verschiedenen europäischen Ländern. Ordne die Kreisdiagramme jeweils dem korrekten Land zu. A, B, C, D</p>  <p> <input type="checkbox"/> Norwegen <input type="checkbox"/> Polen <input type="checkbox"/> Frankreich <input type="checkbox"/> Spanien </p> <p> <input type="checkbox"/> Solar PV <input type="checkbox"/> Wasser <input type="checkbox"/> Biokraftstoff <input type="checkbox"/> Kohle <input type="checkbox"/> Solarthermie <input type="checkbox"/> Kernenergie <input type="checkbox"/> Gas <input type="checkbox"/> andere <input type="checkbox"/> Wind <input type="checkbox"/> Abfall <input type="checkbox"/> Öl </p> <p>Angaben in GWh</p>		
8	Verbinde die Länder mit dem prozentualen Anteil der privaten Haushalte mit Internetzugang im Jahr 2019.	<p>Deutschland 98 %</p> <p>Italien 95 %</p> <p>Niederlande 90 %</p> <p>Österreich 85 %</p>	
9	Die beiden Städte Madrid und Wien sind etwa 1800 Kilometer voneinander entfernt. Gib den Maßstab einer Karte an, auf welcher die beiden Städte 9 cm voneinander entfernt liegen.	_____	

Nr.	Aufgaben Welt	Antworten	Punkte
10	<p>Bringe die folgenden Länder nach ihrem Entwicklungsstand im Bereich der Nachhaltigkeit (SDG-Index) in die richtige Reihenfolge (Stand 2022). Beginne mit dem „nachhaltigsten“ Land.</p> <p>A Katar B Kuba C Polen D USA</p>	<div style="display: flex; justify-content: space-around; align-items: center;"> <input style="width: 40px; height: 40px; border: 1px solid black;" type="text"/> <input style="width: 40px; height: 40px; border: 1px solid black;" type="text"/> <input style="width: 40px; height: 40px; border: 1px solid black;" type="text"/> <input style="width: 40px; height: 40px; border: 1px solid black;" type="text"/> </div>	
11	<p>Benenne, welche Orte auf demselben Längengrad liegen:</p> <p>Colombo – Chennai – Delhi</p>	<hr/>	
12	<p>Benenne das dargestellte Land.</p>  <p style="font-size: small; text-align: right;">© Westermann 45216EX</p>	<hr/>	
13	<p>In dieser anamorphen Karte wird das Risiko für einen Prozess dargestellt.</p> <p>Benenne, welcher endogene oder exogene Prozess hier gemeint ist.</p> 	<hr/>	
14	<p>Nenne die Weltstädte auf den folgenden Karten:</p> <div style="display: flex; flex-wrap: wrap;"> <div style="width: 50%; text-align: center;">  <p>a)</p> </div> <div style="width: 50%; text-align: center;">  <p>c)</p> </div> <div style="width: 50%; text-align: center;">  <p>b)</p> </div> </div>	<p>a) _____</p> <p>b) _____</p> <p>c) _____</p>	

Nr.	Allgemeine Geographie	Punkte
15	Erkläre die Entstehung einer Wendekreiswüste.	<hr/> <hr/>
16	Ordne die folgenden Treibhausgase aufsteigend nach ihrer Klimawirksamkeit: A Kohlenstoffdioxid B Lachgas C Methan D Schwefelhexafluorid	<div style="display: flex; justify-content: space-around; align-items: center;"> <div style="border: 1px solid black; width: 30px; height: 30px; margin: 0 10px;"></div> <div style="border: 1px solid black; width: 30px; height: 30px; margin: 0 10px;"></div> <div style="border: 1px solid black; width: 30px; height: 30px; margin: 0 10px;"></div> <div style="border: 1px solid black; width: 30px; height: 30px; margin: 0 10px;"></div> </div>
17	Benenne den von Paul Crutzen vorgeschlagenen Begriff zur Benennung des jüngsten Erdzeitalters, in dem der Mensch als wesentlicher Einflussfaktor auf der Erde im Mittelpunkt steht.	<hr/>
18	Eine der größten Unsicherheitsfaktoren in der Modellierung der zukünftigen Entwicklung des Klimas stellen Wolken dar. Definiere den Begriff „Wolke“.	<hr/> <hr/> <hr/>

Nr.	Kartenaufgabe	Punkte
19	Kennzeichne bei den folgenden Aufgaben das Gesuchte (A–E) als Umriss/Kreis in der Karte und trage den dazugehörigen Buchstaben ein. 1. Das Emirat Katar (A) ist nicht nur Austragungsort Fußballweltmeisterschaft der Männer, sondern auch ein Verkehrsknotenpunkt für den internationalen Schiffsverkehr auf der Route durch den Suezkanal (B). 2. Eine der Hauptschiffahrtsrouten der Welt verläuft von Singapur (C) nach Hamburg (D). 3. Güter aus den USA hingegen werden über den Nordatlantik (E) nach Europa transportiert.	



Nr.	Stichfragen	Antworten	Punkte
1	Wie hoch ist der jährliche Wasser-Fußabdruck pro Kopf in Deutschland (Stand 2016)?	<hr/>	
2	Wie tief ist der tiefste Punkt der Ostsee?	<hr/>	
3	Wie groß ist die Fläche von Lettland?	<hr/>	

Die Punkte werden durch den/die Landesbeauftragte/n vergeben.