

Vorname, Name: _____

Klasse: _____ Schule: _____

Betreuende Lehrkraft: _____

Schuladresse: _____

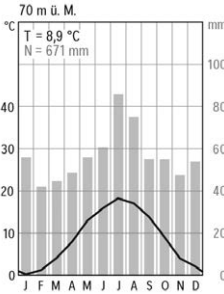


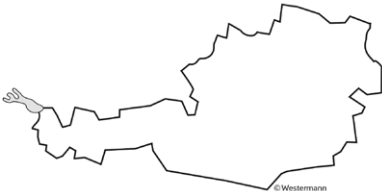
Diercke WISSEN 2022

Landesebene (Kl. 7–10)

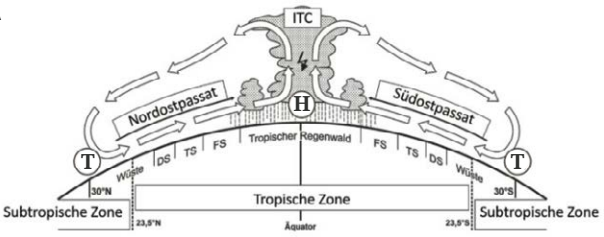
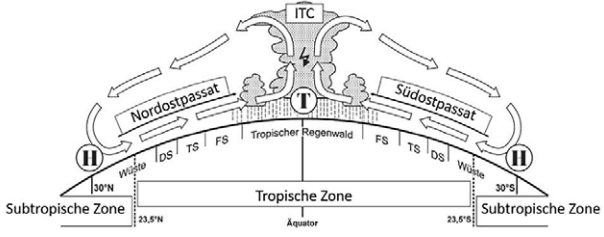
Nr.	Aufgaben Deutschland	Antworten	Punkte
1	Nenne den Namen des flächenmäßig größten Tagebaus im Rheinischen Braunkohlerevier.	_____	
2	Ergänze die folgende Analogie: Der Feldberg im Schwarzwald verhält sich wie der ... im Fichtelgebirge.	_____	
3	Lange Zeit waren West- und Ostdeutschland durch einen Grenzstreifen geteilt. Kreuze an, wie der ehemalige Grenzstreifen heute genannt wird.	<input type="checkbox"/> A Gelbes Band <input type="checkbox"/> B Weißes Band <input type="checkbox"/> C Grünes Band <input type="checkbox"/> D Schwarzes Band	
4	18,9 Millionen Menschen in Deutschland haben einen Migrationshintergrund (Stand 2020). Ordne die Herkunftsregionen absteigend nach ihrem Anteil an der Bevölkerungszahl in Deutschland. Syrien, Rumänien, Türkei, Italien	1. _____ 2. _____ 3. _____ 4. _____	
5	Die Grenze zwischen Polen und Deutschland wurde durch zwei Grenzflüsse festgelegt. Benenne sie.	_____ _____	

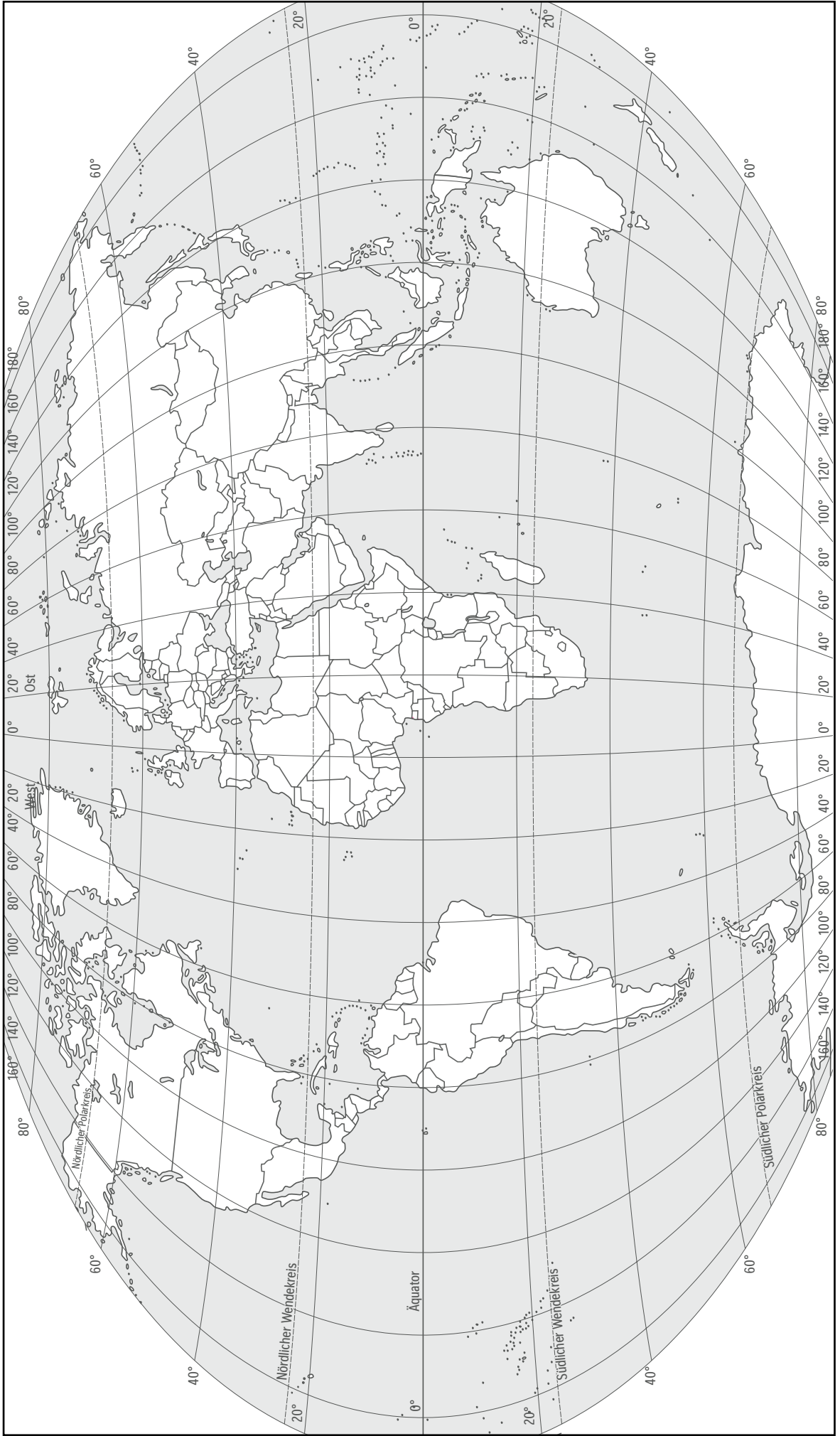
Nr.	Aufgaben Europa	Antworten	Punkte
6	In der Provence (Frankreich) weht häufig ein kühler, trockener Fallwind. Kreuze an, welcher Wind gemeint ist.	<input type="checkbox"/> A Boa <input type="checkbox"/> B Mistral <input type="checkbox"/> C Schirokko	
7	Der Mittelmeerraum ist durch eine charakteristische Vegetation geprägt. Nenne eine typische Strauchformation des Mittelmeerraumes.	_____	

Nr.	Aufgaben Europa	Antworten	Punkte
8	<p>a) Ordne das Klimadiagramm einer der folgenden Städte zu: A Braunschweig B Barcelona C Bergen</p>  <p>b) Begründe deine Auswahl.</p>	<p>a) <input type="checkbox"/> A <input type="checkbox"/> B <input type="checkbox"/> C</p> <p>b) _____ _____ _____ _____</p>	
9	<p>Kreise die Stadt ein, die am weitesten vom Äquator entfernt liegt.</p>	<p>Oslo Helsinki Reykjavík Stockholm</p>	
10	<p>Ordne die vier Städte den drei Klimazonen zu. A gemäßigte Zone (Mittelbreiten) B subtropische Zone C subpolare Zone</p>	<p><input type="checkbox"/> A <input type="checkbox"/> B <input type="checkbox"/> C Murmansk <input type="checkbox"/> A <input type="checkbox"/> B <input type="checkbox"/> C Lissabon <input type="checkbox"/> A <input type="checkbox"/> B <input type="checkbox"/> C St. Petersburg <input type="checkbox"/> A <input type="checkbox"/> B <input type="checkbox"/> C Belgrad</p>	

Nr.	Welt	Antworten	Punkte
11	<p>Kreuze das Land mit den meisten Zeitzonen an. A USA B Russland C Frankreich</p>	<p><input type="checkbox"/> A <input type="checkbox"/> B <input type="checkbox"/> C</p>	
12	<p>Benenne das abgebildete Land.</p> 	<p>_____</p>	

Welt			Punkte
13	<p>Chuquicamata ist einer der größten Tagebaue der Erde, der in einer Höhe von 2.800m in den Anden liegt. Benenne den Rohstoff, der hier abgebaut wird.</p>	<p>_____</p>	
14	<p>Seit Februar 2021 wird das Weltmeer anstatt in vier nun in fünf Ozeane unterteilt. Nenne den Namen des neu kategorisierten fünften Ozeans.</p>	<p>_____</p>	
15	<p>Am 9. Juli 2021 feierte der jüngste Staat der Erde sein zehnjähriges Bestehen. Nenne seinen Namen.</p>	<p>_____</p>	

Allgemeine Geographie		
16	<p>Kreuze die korrekt beschriftete Abbildung an.</p> <p>A</p>  <p>B</p> 	<div style="display: flex; justify-content: space-around; align-items: center;"> <div style="border: 1px solid black; padding: 5px; margin: 5px;">A</div> <div style="border: 1px solid black; padding: 5px; margin: 5px;">B</div> </div>
17	<p>Lange Zeit galt in China die Ein-Kind-Politik zur Regulierung des Bevölkerungswachstums. Nenne das seit März 2021 neue geltende Leitbild der chinesischen Bevölkerungspolitik.</p>	<hr/>
18	<p>Das Nördlinger Ries ist eine Landschaft in Süddeutschland. Kreuze an, durch welches Phänomen sie entstanden ist.</p> <p>A Vulkanausbruch B Gebirgsbildung C Meteoriteneinschlag</p>	<div style="display: flex; justify-content: space-around; align-items: center;"> <div style="border: 1px solid black; padding: 5px; margin: 5px;">A</div> <div style="border: 1px solid black; padding: 5px; margin: 5px;">B</div> <div style="border: 1px solid black; padding: 5px; margin: 5px;">C</div> </div>
19	<p>Benenne zwei Herausforderungen in sogenannten Verdichtungsräumen.</p>	<hr/> <hr/>
Nr.	Kartenaufgabe	Punkte
20	<p>Kennzeichne bei den folgenden Aufgaben das Gesuchte (A–E) als Umriss/Kreis in der Karte und trage den dazugehörigen Buchstaben ein.</p> <p>1. Die Deutschen sind Weltmeister im Reisen. Beliebtestes Reiseziel ist das Mittelmeer (A).</p> <p>2. Reisende zieht es aber auch gerne nach Thailand (B) zum Badeurlaub, während Costa Rica (C) mit einer Vielfalt an naturbelassenen Landschaften aufwartet.</p> <p>3. Ebenso beliebt sind Städtereisen, beispielsweise nach New York (D) oder Dubai (E).</p>	
Gesamtpunktzahl		



Nr.	Stichfragen	Antworten	Punkte
1	Im Nordosten Botsuanas befindet sich das weltgrößte Binnendelta. Benenne den Fluss, der dieses Delta bildet.	_____	
2	Kreuze die Länge des Äquators an.	<input type="checkbox"/> A 40.013 km <input type="checkbox"/> B 40.076 km <input type="checkbox"/> C 40.168 km	
3	Schätze die Fallhöhe des weltweit höchsten Wasserfalls Salto Ángel in Venezuela.	_____	

Die Punkte werden durch den/die Landesbeauftragte/n vergeben.