

Vorname: _____

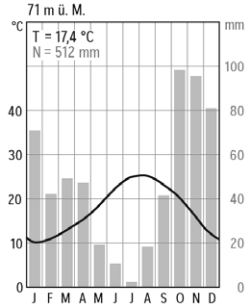
Name: _____

Klasse: _____





Diercke WISSEN 2022

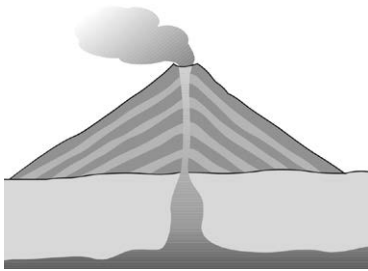
Klassen-/Gruppenebene (Kl. 7–10)

Nr.	Aufgaben Deutschland	Antworten	Punkte
1	Im nordfriesischen Wattenmeer gibt es nicht eingedeichte Inseln. Nenne den geographischen Fachbegriff für diese Inseln.	_____	
2	Benenne das flächenmäßig kleinste deutsche Bundesland.	_____	
3	Gib die Anzahl der Nachbarländer Deutschlands an.	_____	
4	Ordne die folgenden Bundesländer nach der Einwohnerzahl. Beginne mit dem einwohnerreichsten Bundesland. – Berlin – Nordrhein-Westfalen – Mecklenburg-Vorpommern – Baden-Württemberg	1. _____ 2. _____ 3. _____ 4. _____	
5	Die Zugspitze ist Deutschlands höchster Berg. Kreuze die richtige Höhe an.	<input type="checkbox"/> A 1.215 m <input type="checkbox"/> B 2.962 m <input type="checkbox"/> C 3.354 m	
Nr.	Aufgaben Europa	Antworten	Punkte
6	Inmitten der Ewigen Stadt liegt das kleinste Land der Welt. Nenne seinen Namen.	_____	
7	Das vorliegende Klimadiagramm zeigt das Klima in Palermo.  <p>71 m ü. M. T = 17,4 °C N = 512 mm</p> <p>a) Gib einen ariden und einen humiden Monat an. b) Begründe deine Entscheidung.</p>	a) _____ b) _____ _____	

Nr.	Aufgaben Europa	Antworten	Punkte
8	Die Länder Europas zeichnen sich durch vielfältige landschaftliche Besonderheiten aus. Ordne diese den jeweiligen Ländern zu, indem du sie verbindest.	Lavendelfelder Seenreichtum Vulkanismus Gletscher	Finnland Italien Schweiz Frankreich
9	Europa umfasst eine Fläche von etwa 10 Mio. km ² . Mit welchem Faktor muss dieser Wert multipliziert werden, um auf die Fläche Afrikas zu kommen? Kreise ein.	2 3 4	

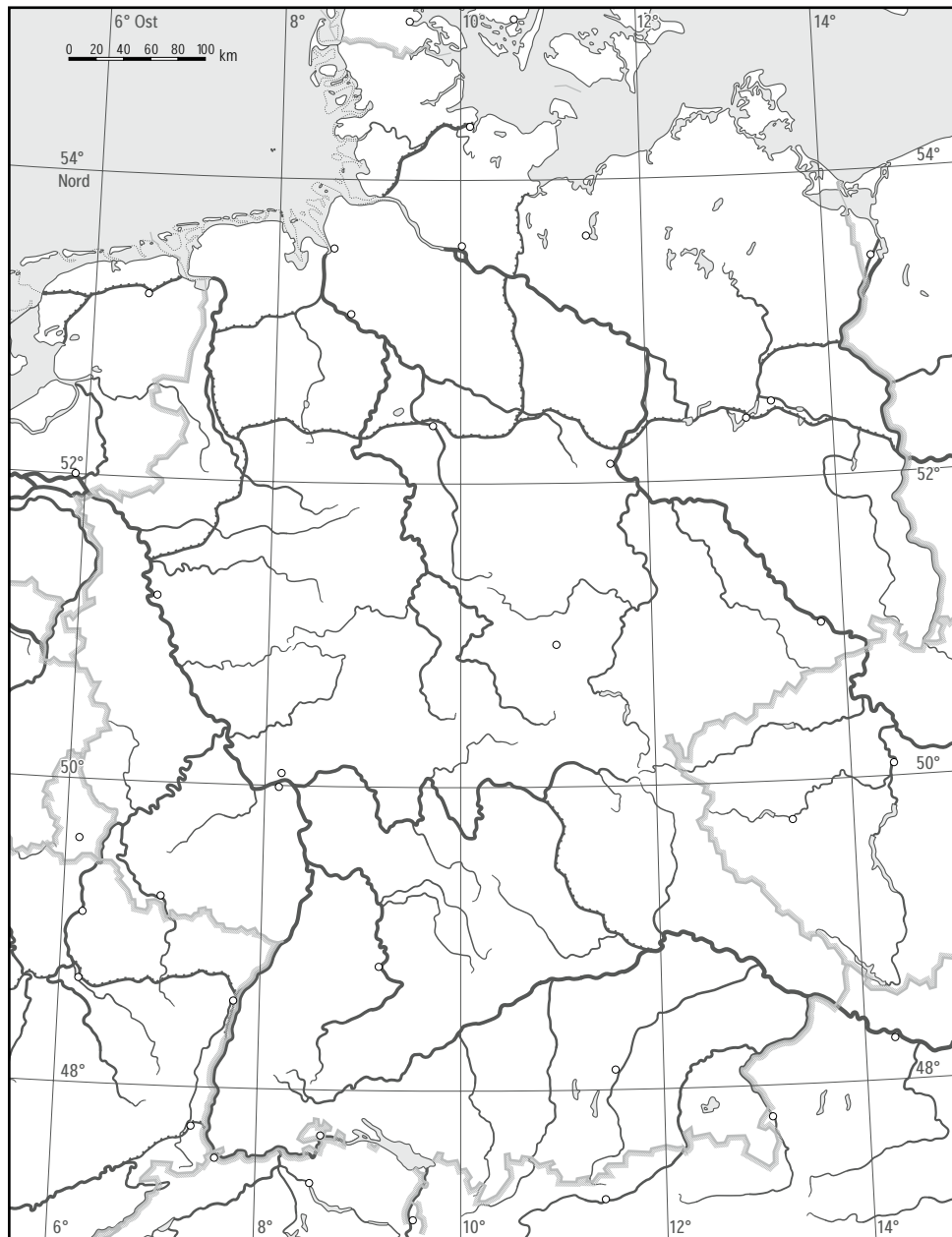
Nr.	Aufgaben Welt	Antworten	Punkte
10	Benenne das abgebildete Land. 	<hr/>	
11	Nahe den Pyramiden von Gizeh befindet sich die Hauptstadt eines afrikanischen Staates. Nenne den Namen der auf dem Foto abgebildeten Stadt. 	<hr/>	
12	Die Insel Taiwan liegt vor der Ostküste Asiens. Kreuze die dortige offizielle Amtssprache an.	<input type="checkbox"/> A Mandarin <input type="checkbox"/> B Kantonesisch <input type="checkbox"/> C Englisch <input type="checkbox"/> D Taiwanesisch	
13	Eine der folgenden Inseln passt nicht in diese Reihe. Kapverden, Kanaren, Hawaii-Inseln und Azoren a) Kreise diese ein. b) Begründe deine Entscheidung.	Kapverden Kanaren Hawaii-Inseln Azoren <hr/>	

14	Die Verteilung der Rohstoffe auf der Erde ist unterschiedlich. Manche Länder verfügen über ein hohes Vorkommen eines bestimmten Rohstoffes. Verbinde die folgenden Länder mit dem jeweiligen Rohstoff.	Deutschland Botsuana Venezuela Chile	Braunkohle Erdöl Kupfer Diamanten
----	---	---	--

Nr.	Aufgaben allgemeine Geographie	Antworten	Punkte
15	Verbinde die Begriffe mit ihrer korrekten Definition.	Luv Lee	windzugewandte Seite Windschattenseite
16	Nenne den Fachbegriff für „biologische Vielfalt“.	_____	
17	Kreuze an, welche Naturereignisse an der Westküste Südamerikas auftreten können.	<input type="checkbox"/> A Erdbeben <input type="checkbox"/> B Hurrikans <input type="checkbox"/> C Tsunamis <input type="checkbox"/> D Taifune	
18	Im Laufe der Erdgeschichte gab es mehrfach Superkontinente. Benenne einen.	_____	
19	Es wird zwischen Schicht- und Schildvulkanen unterschieden. Gib an, welcher Vulkantyp auf der folgenden Abbildung dargestellt ist. 	_____	

Nr.	Kartenaufgabe (mit Kartenvorlage Deutschland)	Punkte
20	Kennzeichne bei den folgenden Aufgaben das Gesuchte (A–E) in der Karte als Umriss/Kreis und trage den dazugehörigen Buchstaben ein.	
	1. Der im 19. Jahrhundert erbaute Ludwigskanal stellte die erste schiffbare Verbindung zwischen den großen Flüssen Donau (A) und Rhein (B) dar.	
	2. Hauptumschlagplatz für Waren aller Art ist heute der Hafen Duisburg (C) , Europas größter Binnenhafen.	
	3. Der größte Seehafen Deutschlands befindet sich im Bundesland Hamburg (D) , welches nach Bremen (E) das zweitkleinste Bundesland darstellt.	

Gesamtpunktzahl	
------------------------	--



Nr.	Stichfragen*	Antworten
1	Im Jahr 2021 fanden in Tokio die Olympischen Spiele statt. Übragt wird die Stadt von einem Berg, der als Wahrzeichen Japans gilt. Nenne den Namen dieses Berges.	_____
2	Immer mehr Menschen leben weltweit in Städten. Kreise den Anteil der in Städten lebenden Weltbevölkerung ein (Stand: 2021).	47 % 57 % 67 %
3	Schätze, wie viel Wasser (in Litern) für die Herstellung eines Burgers mit Rindfleisch benötigt wird.	_____

*Bei Punktegleichstand nach 3 Stichfragen kann die Lehrerin/der Lehrer eigenständig weitere Stichfragen stellen, bis ein eindeutiges Ergebnis vorliegt.